



**EVALUAREA COMPETENȚELOR FUNDAMENTALE
LA FINALUL CLASEI a II-a
2017**

Test 2

MATEMATICĂ

Județul / sectorul.....

Localitatea.....

Școala.....

Numele și prenumele elevei / elevului.....





.....

Clasa a II-a.....

Băiat

Fată

Žiaci druhej triedy majú radi prírodu , preto spolu s pani učiteľkou sa vybrali na výlet do lesa, aby spoznali tajomstva chrobáčikov, obdivovali mnohofarebné kvety a chrobáčky. Ich počet je zapísaný v nižšie uvedenej tabuľke. Pani učiteľka im pripravila niekoľko lístkov s otázkami.

			
79 lienok	149 motýľov	300 vážok	45 včeličiek

1. Koľko **lienok** a **vážok** ste stretli spolu v lese ?
Zakrúžkuj písmeno so správnou odpoveďou.

- a) 124
- b) 228
- c) 345
- d) 379

Nu se completează de către elev
COD

1.

2. Alexandru musí porovnať počet **motýľov** s počtom **vážok**.
Napíš do rámčeka jedno zo znamienok <, =, > aby tvrdenie bolo pravdivé.

149 300

Nu se completează de către elev
COD

2.

11. Radu v lese počítal motýle po dva.
Pomôž mu v počítaní.
Napiš do rámečkov chýbajúce čísla.

36		40			46
----	--	----	--	--	----

Nu se completează de către elev
COD

11.

12. Chlapci nastúpili po 3 do 5 radov. Je ich počet dostatočný, aby vytvorili tanečné páry s 15 dievčatami?
Vysvetli na voľné riadky tvoju odpoveď.

Áno, lebo _____

Nie, lebo _____

Nu se completează de către elev
COD

12.

FELICITĂRI, AI AJUNS LA SFÂRȘITUL TESTULUI!
MULȚUMIM PENTRU PARTICIPARE!